







Parcours enfant	Question	Propositions	Réponse
N°1	Quel est le nom de la plante épineuse autour de la borne ?	<ul style="list-style-type: none">- Fougère- Ortie- Ronce	Ronce
N°2	Quel est le nom de l'arbre à écorce blanche près de la borne ?	<ul style="list-style-type: none">- Bouleau- Châtaigner- Chêne	Bouleau
N°3	A quel arbre appartient cette feuille ? 	<ul style="list-style-type: none">- Bouleau- Châtaigner- Chêne	Chêne
N°4	Que vois-tu devant toi?	<ul style="list-style-type: none">- Un étang- Un lac- Une mare	Etang
N°5	Pour connaître le nom des 2 arbres derrière la borne, déchiffre ce rébus	   é	Marronnier



Parcours enfant

Question

Propositions

Réponse

N°6	Quel fruit donne le chêne ?	<ul style="list-style-type: none">- Châtaigne- Gland- Marron	Gland
N°7	La récolte de la mousse est-elle autorisée en forêt ?	<ul style="list-style-type: none">- Oui- Non	Non
N°8	A quel animal te fais penser l'écorce des pins ?		Crocodile
N°9	Qu'indique la flèche verte sur l'arbre ?	<ul style="list-style-type: none">- Allez tout droit- Tournez à gauche- Tournez à droite	Tournez à gauche
N°10	Quel animal forestier mange des glands ?	<ul style="list-style-type: none">- Chevreuil- Renard- Sanglier	Sanglier




Parcours adolescent

Question

Propositions

Réponse

N°11	Quelle distance sépare en moyenne deux pylones électriques ?	<ul style="list-style-type: none">- 100 m- 200 m- 400 m	200 m
N°12	Le coucou est-il un oiseau migrateur ?	<ul style="list-style-type: none">- Oui- Non	Oui
N°13	Combien de pattes possèdent tous les insectes ?	<ul style="list-style-type: none">- 6- 8- 10	6
N°14	A quel arbre appartient cette feuille ? 	<ul style="list-style-type: none">- Bouleau- Châtaigner- Chêne	Bouleau
N°15	Quel est le nom de l'arbre derrière la borne ?	<ul style="list-style-type: none">- Châtaigner- Chêne- Pin	Châtaigner





Parcours adolescent

Question

Propositions




Réponse

N°16	Qu'indique le poteau en bois devant vous ?	<ul style="list-style-type: none">- Un circuit de randonnée- Une piste équestre- Une piste VTT	Piste VTT
N°17	Quel est l'âge du châtaigner remarquable devant vous ?	<ul style="list-style-type: none">- 50 ans- 250 ans- 500 ans	250 ans
N°18	Retrouve la trace du chevreuil		
N°19	Quel est le nom de l'arbre derrière la borne ?	<ul style="list-style-type: none">- Epicéa- Pin- Sapin	Pin maritime
N°20	Quels types de véhicules sont interdits sur le site ?		Véhicules motorisés



Parcours famille	Question	Propositions	Réponse
N°21	En moyenne, combien d'arbres sont nécessaires à la fabrication d'une tonne de papier ?	- de 2 à 4 - de 6 à 8 - de 10 à 12	de 2 à 4
N°22	Quelle est la superficie totale de l'Arche de la Nature ?	- 250 ha - 350 ha - 450 ha	450 ha
N°23	La fête de la forêt de l'Arche de la Nature a lieu en :	Septembre Octobre Novembre	Octobre
N°24	Quel est la circonférence du châtaignier près de la borne ?	5 m 6 m 7 m	5 m
N°25	Combien d'années sont nécessaires à la dégradation d'une bouteille plastique jetée en forêt ?	- 200 ans - 300 ans - 400 ans	400 ans



Parcours famille	Question	Propositions	Réponse
N°26	Lequel de ces champignons n'est pas comestible ?	<ul style="list-style-type: none">- Amanite phalloïde- Chanterelle- Vesse-de-loup	Amanite phalloïde
N°27	Déchiffre le rébus pour connaître le nom d'un arbre commun sur le domaine		Bouleau verruqueux
N°28	A quel animal appartient cette crotte ? 	<ul style="list-style-type: none">- Chevreuil- Sanglier- Renard	Sanglier
N°29	A quel arbre appartient cette feuille ? 	<ul style="list-style-type: none">- Bouleau- Châtaigner- Chêne	Châtaigner
N°30	Qu'indique le poteau en bois devant vous?	<ul style="list-style-type: none">- Un circuit de randonnée- Une piste équestre- Une piste VTT	Une piste VTT